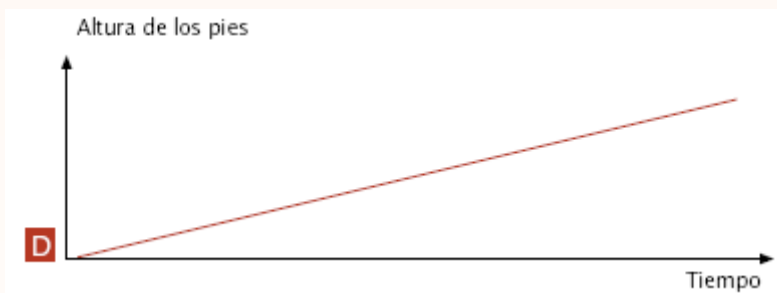
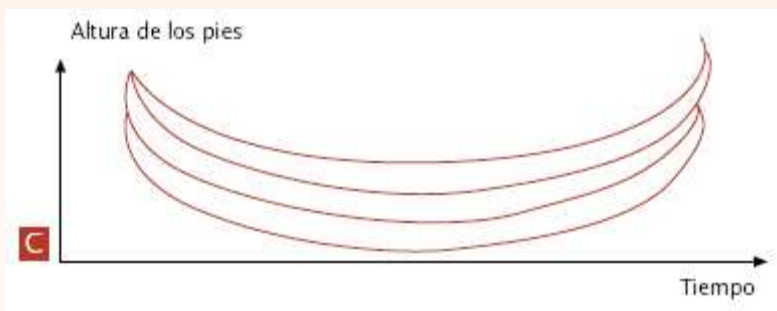
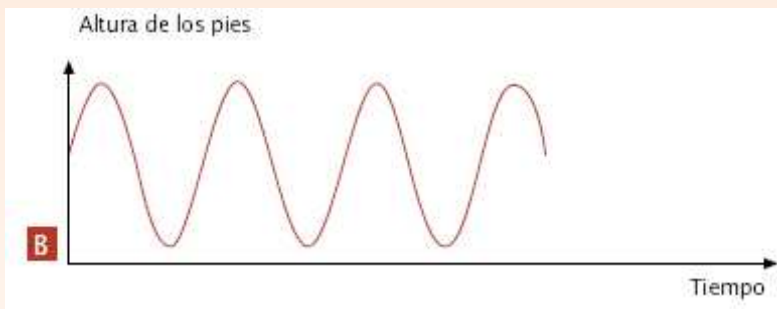
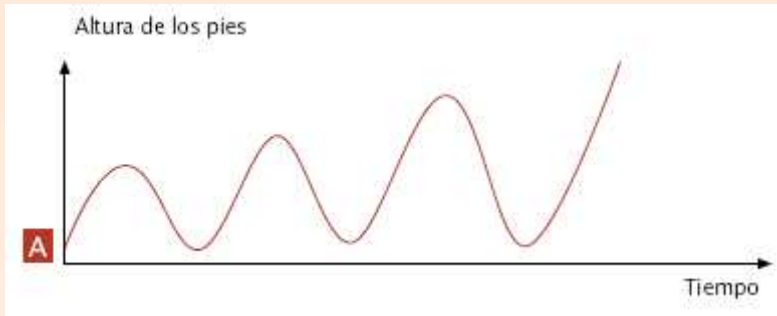


## COLUMPIO: RESPUESTAS Y CRITERIOS DE CORRECCIÓN

### Pregunta 1

1 0 9

¿Cuál de estos gráficos representa mejor la altura de sus pies por encima del suelo mientras se columpia?



## **CRITERIOS DE CORRECCIÓN**

### ***Máxima puntuación:***

Código 1: Gráfico A.

### ***Sin puntuación:***

Código 0: Otras respuestas.

Código 9: Sin respuesta.

## **CARACTERÍSTICAS DE LA PREGUNTA**

**Intención:** Explorar si el alumno reconoce la representación gráfica de una función.

**Idea principal:** Cambio y relaciones.

**Competencia matemática:** Nivel 2 (Conexiones e integración para resolver problemas).

**Contexto:** Educativo.

**Tipo de respuesta:** Elección múltiple.